

**EVALUACIÓN DE MATEMÁTICAS EDUCACIÓN PRIMARIA
ОЦІНЮВАННЯ З МАТЕМАТИКИ ПОЧАТКОВА ОСВІТА**

Nombre y Apellidos:

Ім'я та прізвище: _____

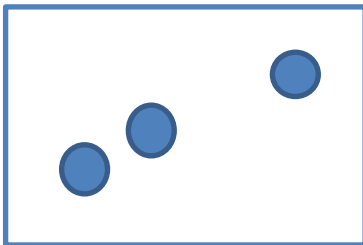
NUMERACIÓN

НУМЕРАЦІЯ

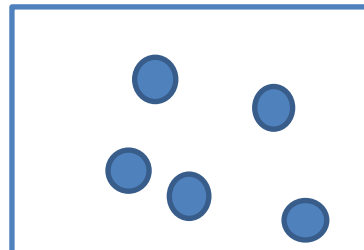
- 1. Escribe los puntos que ves en cada tarjeta, elige los números de abajo:**
Напишіть крапки, які ви бачите на кожній картці, виберіть цифри нижче:

*Asocia número-cantidad (4)

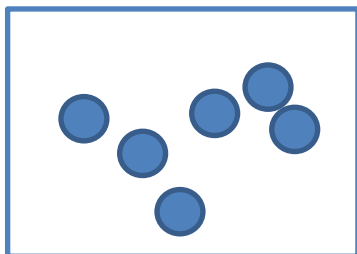
A. _____



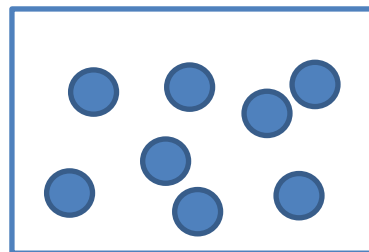
B. _____



C. _____



D. _____



1	2	3	4	5	6	7	8	9	10
---	---	---	---	---	---	---	---	---	----

2. Escribe con cifra los siguientes números:

Запишіть наведені нижче числа цифрами:

*Lee y escribe números naturales desde la unidad hasta la centena de millón (9), números decimales (1) y fracciones (4)

- Nueve

- Дев'ять _____

- Cuarenta y tres

- Сорок три _____

- Doscientos dos

- Двісті два _____

- Cuatro mil noventa y tres

- Чотири тисячі дев'яносто три _____

- Treinta y tres mil doscientos cinco

- Тридцять три тисячі двісті п'ять _____

- Seiscientos veinte mil

- Шістсот двадцять тисяч _____

- Ocho millones novecientos treinta y cinco mil, quinientos veintiocho

- Вісім мільйонів дев'ятсот тридцять п'ять тисяч п'ятсот двадцять вісім

- Sesenta y tres millones, setecientos cuatro mil, novecientos dos

-Шістдесят три мільйони сімсот чотири тисячі дев'ятсот два

- Ciento veinticuatro millones, seiscientos ochenta y cinco mil, quinientos ochenta

- Сто двадцять чотири мільйони шістсот вісімдесят п'ять тисяч п'ятсот вісімдесят

- Trescientos ocho coma veinticuatro

- Триста вісім цілих двадцять чотири сотих _____

- Seis novenos:

- Шість дев'ятих: _____

Cuatro sextos:

Чотири шостих: _____

- Dos quintos:

- Дві п'ятих: _____

Doce quinceavos:


Дванадцять п'ятнадцятих: _____

3. Escribe el número que va antes y el que va después del número dado:

Напишіть попереднє і наступне числа до вказаного числа:

**Identifica anterior y posterior*

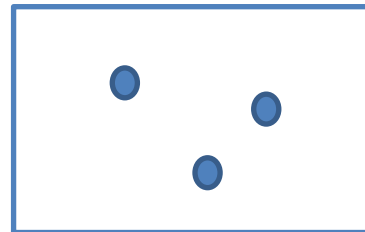
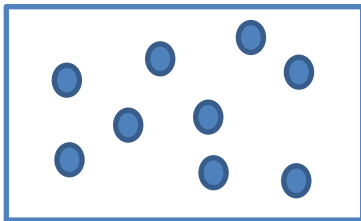

 2 3 4 _____ 20 _____ _____ 321 _____


 _____ 1.563 _____ _____ 10.632 _____ _____ 333.705 _____

4. Rodea en qué tarjeta hay más puntos:



Обведіть, на якій карті більше крапок :

**Compara números naturales (2)*



¿Y ahora en cuál hay menos puntos? Rodea la respuesta correcta:

А зараз на якій з них менше крапок? Обведіть правильну відповідь:



5. Ordena estos números de menor a mayor:

Упорядкуйте ці числа від меншого до більшого:

*Ordena números naturales de menor a mayor (7)

10.200 - 3 - 210 - 14 - 1.624 - 4.261 - 990

--	--	--	--	--	--	--	--

6. Ordena estos números de mayor a menor:

Упорядкуйте ці цифри від найбільшого до найменшого:

*Ordena números naturales de mayor a menor (8)

9.000 - 130 - 8 - 300 - 1.045 - 225.311 - 480 - 12

--	--	--	--	--	--	--	--	--	--

7. Completa las siguientes series de números:

Заповніть наступний ряд чисел:*Realiza series con números naturales ascendentes (1) y descendentes (2). Realiza series con números decimales ascendentes (2).

60	55			40			25
----	----	--	--	----	--	--	----

427	430						
-----	-----	--	--	--	--	--	--

1.200	1.150				950		
-------	-------	--	--	--	-----	--	--

0'7	0'9					1'9
-----	-----	--	--	--	--	-----

1'75	1'50				0'5	
------	------	--	--	--	-----	--

8. Lee y rodea con un círculo el dibujo que se indica:
Прочитайте та обведіть малюнок, що відповідає числу:

*Identifica números ordinales (5)

tercero:

третій:

sexto:

шостий:

décimo:

десятий:

séptimo:

сьомий:

undécimo:

одинадцятий:

quinto:

п'ятий:

9. Indica los valores de los siguientes números romanos:
Вкажіть значення наступних римських цифр:

*Identifica el valor de las letras (6)

I V X L C D M
 1 _____ _____ _____ _____ _____ _____

10. Completa:

Завершіть:

*Utiliza el sistema romano de numeración (6)

CXXV = _____ 216 = _____ XLIX = _____

715 = _____ CDL = _____ 1.997 = _____

CÁLCULO

РОЗРАХУНОК

11. Resuelve las siguientes sumas y restas mentalmente, sin hacer operaciones sobre ningún papel:

Виконайте наступні додавання і віднімання подумки, не виконуючи дій на папері:

*Calcula mental o manipulativamente (6)

6 + 4 = _____ 7 - 3 = _____

8 + 5 = _____ 15 - 8 = _____

23 - 7 = _____ 25 - 6 = _____

12. Realiza las siguientes sumas:

Виконайте додавання:

*Suma sin llevadas (2), con llevadas (4)

$\begin{array}{r} + 3 \\ 2 \end{array}$	$\begin{array}{r} + 31 \\ 45 \end{array}$	$\begin{array}{r} 94 \\ + 13 \\ 45 \end{array}$
---	---	---

845

7.654

7.321

$$\begin{array}{r}
 + \quad 785 \\
 \hline
 \end{array}
 \qquad
 \begin{array}{r}
 + \quad 543 \\
 \hline
 \end{array}
 \qquad
 \begin{array}{r}
 + \quad 248 \\
 \hline
 1.830
 \end{array}$$

13. Realiza las siguientes restas:

Виконайте віднімання:

*Resta sin llevadas (2), con llevadas (4).

$$\begin{array}{r}
 - \quad 85 \\
 \hline
 13
 \end{array}
 \qquad
 \begin{array}{r}
 - \quad 148 \\
 \hline
 34
 \end{array}
 \qquad
 \begin{array}{r}
 - \quad 853 \\
 \hline
 235
 \end{array}$$

$$\begin{array}{r}
 \overset{\cdot}{7}.643 \\
 \underset{\cdot}{3}.821 \\
 \hline
 \end{array}
 \qquad
 \begin{array}{r}
 3.890 \\
 \hline
 573
 \end{array}
 \qquad
 \begin{array}{r}
 4.527 \\
 \hline
 1.276
 \end{array}$$

14. Escribe estas sumas en forma de multiplicación y resuélvelas:

Запишіть ці суми у вигляді множення та розв'яжіть їх:

*Multiplica como suma (4)

▲ $2 + 2 + 2 + 2 + 2$ $5 \times 2 = \underline{\quad}$

▲ $3 + 3$ $\underline{\quad} \times \underline{\quad} = \underline{\quad}$

▲ $2 + 2 + 2 + 2 + 2 + 2 + 2 + 2$ $\underline{\quad} \times \underline{\quad} = \underline{\quad}$

▲ $4 + 4 + 4 + 4$ $\underline{\quad} \times \underline{\quad} = \underline{\quad}$

▲ $5 + 5 + 5 + 5 + 5$ $\underline{\quad} \times \underline{\quad} = \underline{\quad}$

15. Realiza las siguientes multiplicaciones:

Виконайте наступні множення:

*Multiplica (4)

$$\begin{array}{r}
 32 \\
 \times 3 \\
 \hline
 \end{array}
 \qquad
 \begin{array}{r}
 329 \\
 \times 6 \\
 \hline
 \end{array}
 \qquad
 \begin{array}{r}
 672 \\
 \times 24 \\
 \hline
 \end{array}
 \qquad
 \begin{array}{r}
 832 \\
 \times 57 \\
 \hline
 \end{array}$$

16. Realiza las siguientes divisiones:

Виконайте наступні ділення:

*Divide (4)

36

6

76

2

352 8

1535

7

17. Completa y calcula operaciones combinadas:

Виконайте комбіновані дії:

*Realiza operaciones combinadas con paréntesis (4)

a) $3 \times (5-4) =$ _____

b) $(5+4) \times 2 =$ _____

c) $5 \times (10+2-5) =$ _____

d) $3 \times (6-4+1) + 4 =$ _____

18. Coloca y realiza estas operaciones con números decimales:

Виконайте такі дії з десятковими числами:

*Suma números decimales (2) y resta números decimales (2).

$2,36+1,34=$

$39,75+62,872=$

$47,35-42,735=$

$12,04-4,13=$

19. Calculamos con fracciones:

Обчислюємо з дробами:

*Suma fracciones (1) y resta fracciones (1) con el mismo denominador.

$$\frac{4}{8} + \frac{2}{8} =$$

$$\frac{5}{9} - \frac{4}{9} =$$

MEDIDA

MIPA

20. Escribe en orden los días de la semana:

Напишіть дні тижня по порядку:

*Conoce los días de la semana (7).

1-й _____

5-й _____

2-й _____

6-й _____

3-й _____

7-й _____

4-й _____

21. Escribe en orden los meses del año:

Запишіть місяці року по порядку:

* Conoce los meses del año (12).

1 _____

7 _____

2 _____

8 _____

3 _____

9 _____

4 _____

10 _____

5 _____

11 _____

6 _____

12 _____

22. Une con flechas:

З'єднайте стрілками:

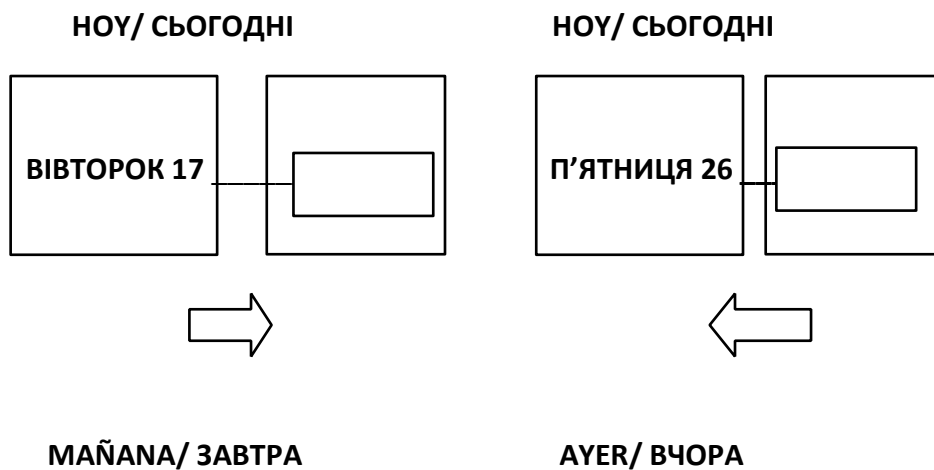
*Calcula con unidades de tiempo: días, meses, años (6).

Año/ Рік	100 años/ 100 років
Mes/ Місяць	12 meses/ 12 місяців
Siglo/ Століття	5 años/ 5 років
Trimestre/ Триместр	30 días/ 30 днів
Década/ Декада	3 meses/ 3 місяці
Semana/ Тиждень	7 días/ 7 дні

23. Completa lo que falta:

Доповніть те, чого не вистачає:

*Orientación temporal: Identifica ayer, hoy y mañana (2).



24. Sitúa las agujas en las horas indicadas:

Встановити стрілки в зазначений час:

*Señala la hora en reloj analógico (4).



LAS ONCE

ОДИНАДЦЯТЬ



LAS TRES Y MEDIA

ОПІВ НА ЧЕТВЕРТУ



LAS SIETE Y CUARTO

ЧВЕРТЬ НА ВОСЬМУ



LAS CINCO MENOS CUARTO

ЗА ЧВЕРТЬ П'ЯТА

25. Contesta:

Дайте відповідь:

*Calcula con unidades de tiempo: horas, minutos, segundos (6).

¿Cuántas horas hay en un día?

Скільки годин у добі? _____

¿Cuántas horas hay en un mediodía?

Скільки годин у полудні? _____

¿Cuántos minutos hay en tres cuartos de hora?

Скільки хвилин у трьох чвертях години? _____

¿Cuántos segundos hay en 15 minutos?

Скільки секунд в 15 хвилинах? _____

¿Cuántos minutos hay en un día?

Скільки хвилин у добі? _____

¿Cuántos minutos son dos horas y media?

Скільки хвилин - дві з половиною години? _____

26. Escribe el nombre de las monedas sobre cada línea:

У кожному рядку напишіть назву монет:

*Conoce las monedas (8).

1 € 1 евро	20 céntimos 20 центів	1 céntimo 1 цент	50 céntimos 50 центів	5 céntimos 5 центів	2 € 2 евро	2 céntimos 2 центи	10 céntimos 10 центів
---------------	-----------------------------	---------------------	-----------------------------	---------------------------	---------------	--------------------------	-----------------------------



27. Identifica y escribe debajo el nombre de cada billete:

Визначте та запишіть назву кожної банкноти нижче:

*Conoce los billetes (5).

Cinco euros П'ять евро	Veinte euros Двадцать евро	Cien euros Сто евро	Cincuenta euros П'ятдесят евро	Diez euros Десять евро
---------------------------	-------------------------------	------------------------	-----------------------------------	---------------------------



GEOMETRÍA
ГЕОМЕТРІЯ

28. Escribe el nombre de estas rectas:

Напишіть назву цих ліній:

*Reconoce y dibuja tipos de rectas: paralelas y perpendiculares (4).

**paralelas – perpendiculares
паралельні - перпендикулярні**

1)

2)

.

.

.

29. Con la ayuda de una regla traza dos rectas paralelas a ésta:

За допомогою лінійки проведіть дві лінії, паралельні цій:

.

30. Con la ayuda de una escuadra o cartabón traza tres rectas perpendiculares a ésta:

За допомогою косинця проведіть три лінії, перпендикулярні до цієї:

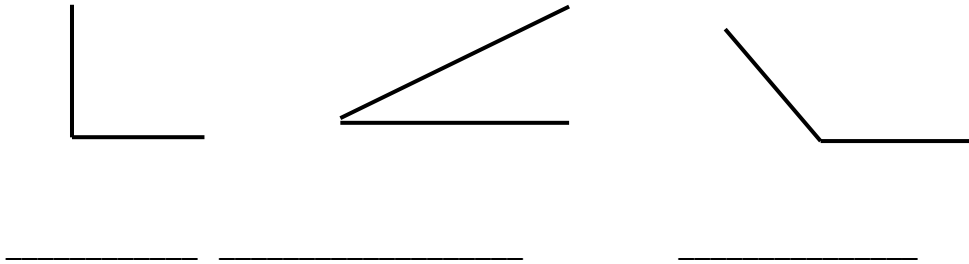
31. Escribe el nombre de estos ángulos:

Напишіть назву цих кутів:

*Reconoce tipos de ángulos: agudo, obtuso, recto (3).

agudo - obtuso – recto

гострий - тупий - прямой



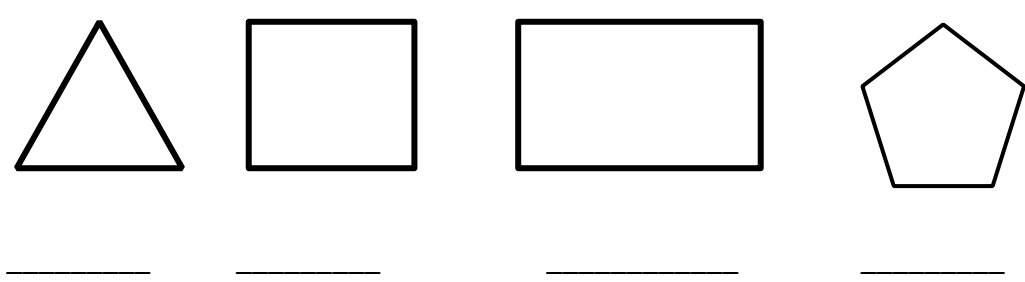
32. Escribe debajo el nombre de la forma de cada dibujo:

Нижче напишіть назву форми кожного малюнка:

*Identifica figuras planas sencillas: triángulo, pentágono, cuadrado, rectángulo (4).

triángulo - pentágono - cuadrado – rectángulo

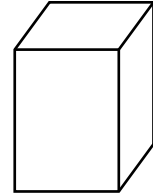
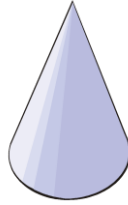
трикутник - п'ятикутник - квадрат - прямокутник



33. Escribe los nombres de ESFERA, CONO, PRISMA, CILINDRO debajo de la figura correspondiente:

Напишіть назви СФЕРА, КОНУС, ПРИЗМА, ЦИЛІНДР під відповідним малюнком:

*Identifica cuerpos geométricos: esfera, cono, prisma, cilindro (4).

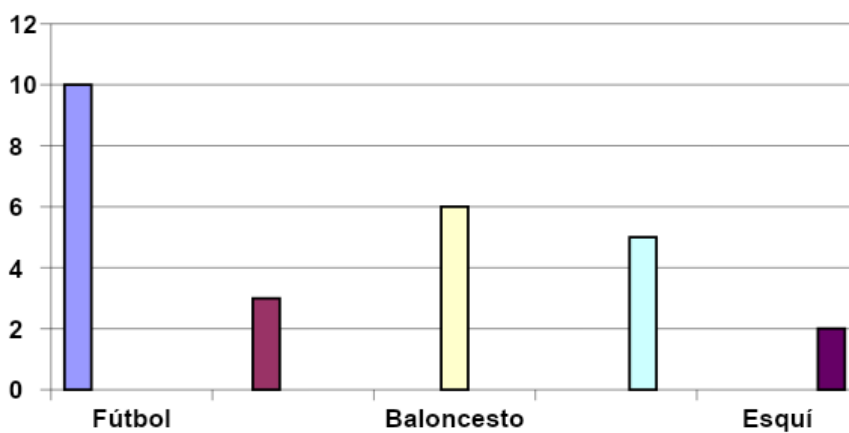


ESTADÍSTICA СТАТИСТИКА

En esta gráfica se han representado los deportes preferidos por los alumnos y alumnas de la clase.

Цей графік показує, яким видам спорту віддають перевагу учні класу.

Alumnos/as Учні



Deportes preferidos
Улюблені види спорту

34. Con los datos de la gráfica, completa esta tabla:

Використовуючи дані діаграми, заповніть наступну таблицю:

*Extrae los datos de una gráfica (5).

DEPORTES PREFERIDOS УЛЮБЛЕНИЙ ВИД СПОРТУ	nº de alumnos y alumnas Кількість учнів
Fútbol Футбол	
Tenis Теніс	
Baloncesto Баскетбол	
Natación Плавання	
Esquí Лижний спорт	

35. Contesta:

Дайте відповідь:

*Interpreta datos en una gráfica (3).

¿Qué deporte tiene mayor número de preferencias?

Який вид спорту має найбільшу кількість вподобань?

¿Cuál menos?

Який менше? _____

¿Cuántos alumnos/as hay en la clase?

Скільки учнів у класі? _____

PROBLEMAS

Задачі

36. Resuelve los siguientes problemas:

Вирішити наступні задачі:

Mis padres han comprado una lavadora de **260 €** y un libro de **18 €**. ¿Cuánto dinero se han gastado en total?

Мої батьки купили пральну машину вартістю **260 €** і книгу вартістю **18 €**. Скільки грошей вони витратили в цілому?

DATOS/ Дані
OPERACIONES/ Розв'язок
RESPUESTA/ Відповідь

Miguel tiene **83 pegatinas** y regala **17 pegatinas** a Luis. ¿Cuántas pegatinas le quedan a Miguel?

У Мігеля **83 наклейки**, а Луїсу він віддав **17 наклейок**. Скільки наклейок залишилось у Мігеля?

DATOS/ Дані
OPERACIONES/ Розв'язок
RESPUESTA/ Відповідь

Un kilo de peras cuesta **2 euros**. ¿Cuánto gastaré si quiero comprar **145 kilos**?
 Кілограм груш коштує **2 євро**. Скільки я витрачу, якщо хочу купити **145 кілограмів**?

DATOS/ Дані
OPERACIONES/ Розв'язок
RESPUESTA/ Відповідь

En la librería había **2.450 cuadernos**. Al inicio del curso se han vendido **170 paquetes de 12 cuadernos** cada uno. ¿Cuántos cuadernos han quedado sin vender? У книгарні було **2 450 зошитів**. На початку навчального року було продано **170 пачок по 12 зошитів** у кожній. Скільки зошитів залишилося непроданими?

DATOS/ Дані
OPERACIONES/ Розв'язок
RESPUESTA/ Відповідь

Una envasadora se encarga de llenar **cajas de 25 pinturas** cada una. ¿Cuántas **cajas** podrá llenar con **525 pinturas**?

Пакувальна машина наповнює коробки по **25 фарб** у кожній. Скільки коробок вона може наповнити, маючи **525 фарб**?

DATOS/ Дані
OPERACIONES/ Розв'язок
RESPUESTA/ Відповідь

Se está llenando una estantería de libros en la que caben **250 libros** en total. En una balda hay **87 libros** y en otra **93 libros**. ¿Cuántos libros faltan? Книжкова полиця може вмістити загалом **250 книг**. На одній полиці стоїть **87 книг**, а на іншій - **93 книги**. Скільки книг не вистачає?

DATOS/ Дані
OPERACIONES/ Розв'язок
RESPUESTA/ Відповідь